

令和8年度入学試験問題

2月3日 実施

社 会 (30分)

〔注 意〕

1. 試験開始の指示があるまで問題を開いてはいけません。
2. 問題冊子は8ページあります。試験開始後すぐに確かめてください。
3. 問題冊子の表紙および解答用紙には、受験番号（算用数字）と氏名をはっきり書いてください。
4. デジタル採点をします。解答は解答欄からはみ出さないように、濃くはっきりと記入してください。
5. 試験終了後、解答用紙のみ集めます。問題冊子は持ち帰ってください。
6. 試験中、机の上から物を落としたり、気分が悪くなったり、何か用ができたりした時は、手を挙げて監督の先生に知らせてください。
7. 「漢字で答えなさい」という設問については、解答を漢字で書いてください。

受験番号

氏名

東京女学館中学校

【1】 次の文章を読み、問いに答えなさい。

米は、他の穀物こくもつより単位面積あたりの収穫量しゅうかくが多く、たくさんの人口を養うことができ、その栽培さいばいには①多くの水とあたたかな気温が必要です。日本の主食である大切な米をめぐる、歴史上混乱が何度もくり返されてきました。

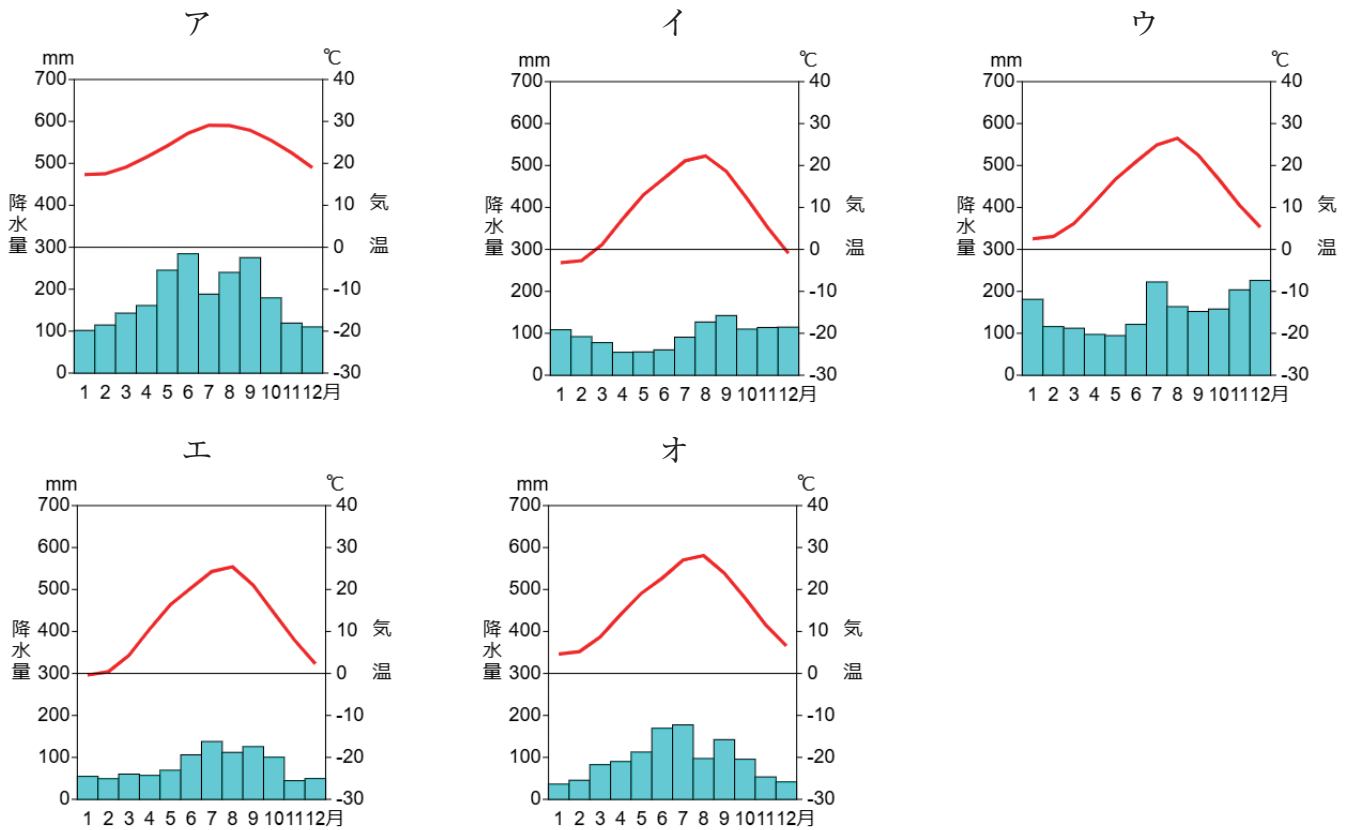
江戸時代の後半、米の不作によって大きなききんが起きたときには、全国各地で②百姓一揆ひゃくしやういつきや、騒動そうどうが起きました。明治時代には、国の収入を安定させるために収穫高に応じて米で納める税制から、③新しい税制へと変更されました。この税制は不作でも同じ額の税を納める必要があり、重い負担に苦しむ農民の一揆が各地で発生しました。大正時代には、1918年に米価が半年で3倍以上にも値上がりし、富山県の主婦こうごの抗議をきっかけに、④米騒動といわれる暴動が全国で起きました。これを抑えるために軍が出動し、内閣は総辞職に追い込まれました。昭和に入ると、第二次世界大戦中や戦争後しばらくの間、米などの食料は政府の管理下に置かれる政策が実施されました。戦争中は、食料以外にも報道や天気予報など生活に欠かせない重要な情報も政府によって規制されたため、本来なら防げたはずの⑤災害が多く発生しました。

日本では、米の収穫しゅうかくを増やすために昔から工夫を重ねてきました。ため池やダムの建設、山の斜面しゃめんへの⑥階段状の水田の造成、湖沼や海の埋め立て、⑦河川の改修、品種改良など、それぞれの地域でさまざまな取り組みが行われてきました。1970年代にはじまった減反政策は2018年に終了しましたが、現在も⑧米の生産に関する政策が実施され続けています。

米は日本人の主食であり、価格が上がっても需要じゅようが大きく減少することはありません。そのため、わずかな供給不足でも価格が上昇しやすくなります。また、近年起きている米不足も、気候変動や農業従事者の高齢化、訪日観光客の増加など、さまざまな要因が絡からんでいると言われ、⑨卸売業者おろしやうりの動きも米不足をさらに悪化させたと報道されています。政府が備蓄米びちくまいを市場に放出したことにより、一時的に価格は下がったものの、2025年度の新米が出荷された後も価格は下がりませんでした。そのため、2027年度から農業政策の見直しが行われる予定です。安定した米の生産をめざして、耕作地の大規模化や耕作放棄地ほうきの活用に加え、⑩ロボット技術や情報通信技術（ICT）を活用した「スマート農業」の導入も求められています。


現在、日本の食料自給率は37%と低く、多くの食料を外国からの輸入に頼っています。また、日本国内でも、⑪47都道府県の食料自給率には大きな差があり、地産地消をめざしても、流通に大きな負担がかかっています。持続可能な社会をつくるためには、私たちひとりひとりが毎日の食生活の中でできることを実践じっせんしていくことが大切です。

問1 下線部①について、次の雨温図は、札幌、新潟、長野、岡山、那覇のいずれかのもので、米の栽培が盛んな新潟の雨温図を、次のア～オから1つ選び、記号で答えなさい。



問2 下線部②について、次の問いに答えなさい。

(1) 都市部で起きた、図表1-1のような騒動を何と呼ぶか、答えなさい。



図表1-1 東京国立博物館所蔵
「幕末江戸市中騒動図」

(2) 1837年の天保のききんの時に、大阪の元役人が幕府の対応を批判して、乱を起こしました。この人物の姓名を漢字で答えなさい。

問3 下線部③について、具体的な説明として正しいものを、次のア～エから1つ選び、記号で答えなさい。

ア：土地の面積に応じて収穫量の10%を米で納めるようにした。

イ：土地の面積に応じて収穫量の10%を現金で納めるようにした。

ウ：土地の価格の3%を現金で納めるようにした。

エ：土地の価格の3%を米で納めるようにした。

問4 下線部④について、次の問いに答えなさい。

(1) 大正時代に米騒動がおきた理由として正しいものを、次のア～エから1つ選び、記号で答えなさい。

ア：米の不作のため、外国から米を大量に輸入したことで経済が混乱したから。

イ：大地震が起きて、米を生産できなくなったから。

ウ：個人が買える米の量を決めて、配給制をとったから。

エ：戦争によって米が買いしめられ、価格が上がったから。

(2) この騒動と同時期に起きたこととして誤っているものを、次のア～エから1つ選び、記号で答えなさい。

ア：労働者の生活を守るための労働運動

イ：小作料の引き下げを求める農民運動

ウ：国会の開設を求める運動

エ：江戸時代から続く差別をなくすための運動

問5 下線部⑤について、2011年の東日本大震災をきっかけに、災害に関する情報を後世に伝えるために、国土地理院によって新しい地図記号がつけられました。その地図記号を、次のア～エから1つ選び、記号で答えなさい。



ア



イ



ウ



エ

問6 下線部⑥について、このような水田を何とよびますか。

問7 下線部⑦について、大規模な改修を行った河川の1つが利根川です。改修によって利根川の流れは大きく変わり、現在、いくつかの都道府県の境界となりました。河口付近で、利根川をはさんで位置する都道府県の組み合わせとして正しいものを、次のア～カから1つ選び、記号で答えなさい。

ア：北側－東京 南側－神奈川

イ：北側－埼玉 南側－東京

ウ：北側－東京 南側－千葉

エ：北側－千葉 南側－茨城

オ：北側－茨城 南側－千葉

カ：北側－埼玉 南側－茨城

問8 下線部⑧について、次の問いに答えなさい。

(1) 米を含む農業全般の政策は、日本政府のどの省庁が担当しているか、**漢字5字**で答えなさい。

(2) 政策を実施する省庁は、内閣のもとで仕事をしています。日本では、国会・内閣・裁判所の3つの機関が、国の重要な仕事を分担しており、権力が1つに集中して行き過ぎることを防いでいます。その政治のしくみを何とというか、**漢字4字**で答えなさい。

問9 下線部⑨について、私たちがお店で商品を購入するとき、生産者とお店（コンビニエンスストアやスーパーマーケットなどの小売業者）の間には卸売業者が入っています。そのため、流通の段階が増えますが、卸売業者が間に入ることは、消費者にとってどのような利点があるか、説明しなさい。

問10 下線部⑩について、スマート農業をとりいれるには、農家にとって現時点では大きな課題があります。その課題について説明しなさい。

問11 下線部⑪について、北海道、新潟県、東京都の、おおよその都道府県別食料自給率（カロリーベース）の組み合わせとして正しいものを、次のア～エから1つ選び、記号で答えなさい。

ア：北海道0%、新潟県200%、東京都100%

イ：北海道0%、新潟県100%、東京都200%

ウ：北海道100%、新潟県200%、東京都0%

エ：北海道200%、新潟県100%、東京都0%

【2】 次の文章を読み、問いに答えなさい。

私たちは、日々の生活の中で、さまざまなことを記憶しながら生きています。特に意識をしなくても、いつまでも忘れないこともあれば、くり返しノートに書いて記憶にとどめることもあります。社会全体も、人々の間でさまざまな出来事を共有しながら記憶していきます。その記憶には、人々の心や体に大きな傷を残す、二度と起きてはならない戦争のような出来事もあります。しかし、記憶は必ずしも固定されず、社会が変わればうすれてしまうこともあります。80年という年月は、人間の寿命とも重なり、社会変動や価値観の変化は80年周期で起こるという考え方もあります。昨年は戦後80年目の年にあたり、戦争の体験者から直接、証言を聞くことは難しくなっていますが、テレビや新聞での①報道や、そのほかの80年を振り返るさまざまな企画を通じて、戦争や平和について考える機会がたくさんありました。各地で開催される平和祈念式典・追悼式なども注目されました。

②6月23日の沖縄慰霊の日には、沖縄南部にある③平和祈念公園で、④県主催の式典が開催されました。県知事は「平和宣言」の中で、次のように述べました。「このあまりにも凄惨な沖縄戦の実相と教訓は、戦争体験者が心の傷を抱えながら、後世に伝えようと残した証言と、沖縄戦研究者のたゆまない努力によって、今日まで受け継がれてきました。これこそが、私たち沖縄県民の平和を希求するところの原点となっています。」

8月6日・9日の⑤広島と長崎の原爆の日にも、市が主催する式典が開かれました。両式典では、それぞれの市長が述べる「平和宣言」のほかに、⑥石破茂首相（式典当時）、⑦グテーレス国連事務総長のあいさつもありました（グテーレス事務総長のあいさつは代読）。世界に向けて核兵器の廃絶を訴える地道な運動を続けてきたことが評価され、広島・長崎の被爆者からなる日本被団協（日本原水爆被害者団体協議会）に対して、前年に★が与えられたこともこれらのことばには盛り込まれていました。

8月15日の終戦記念日には政府主催の追悼式が開催され、石破首相はその式辞の中で「未だ帰還を果たされていない多くのご遺骨のことも、決して忘れません。一日も早くふるさとお迎えできるよう、全力を尽くします」と述べました。80年が経過した現在も、⑧遺骨を発見しDNA鑑定を経て、遺族・親族のもとに届ける事業が続けられています。

それぞれの平和宣言では、戦争を終わったことにはしない、その記憶を忘れずに体験者たちの思いをつなぐ、そして「真に平和な世界」「恒久の世界平和」をあきらめずに求め続ける、といった決意が述べられていました。社会も、ひとりの人間と同じように、楽しいことや成功も経験しますが、失敗や反省から多くを学びます。私たちも社会の一員として、また地球市民として、未来のために、過ちや反省など苦しくつらい記憶を失ってしまう前に、受け止め受け継ぐ覚悟が求められています。

問1 下線部①について、戦争の記憶に関して、報道が果たすべき役割やとるべき姿勢として、最もふさわしいものを次のア～エから1つ選び、記号で答えなさい。

ア：人々に戦争の恐ろしさを認識させるために、戦争の悲惨さを特に強調して伝える。

イ：戦争の実態をつかむために、多様な視点で伝え続ける。

ウ：社会問題にならないように、政府の方針に従った内容にする。

エ：ひとりひとり戦争体験は異なるので、証言はあまり重要視しない。

問2 下線部②について、6月23日の「沖縄慰霊の日」は何があった日か、次のア～エから1つ選び、記号で答えなさい。

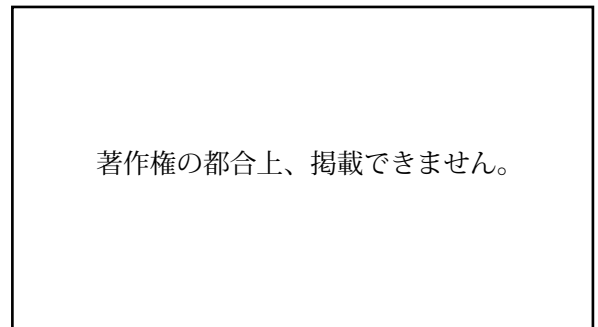
ア：沖縄本島にアメリカ軍が上陸した日

イ：沖縄戦で日本軍の組織的な戦いが終わった日

ウ：沖縄戦の降伏文書に調印がされた日

エ：沖縄戦で首里城が焼失した日

問3 下線部③について、図表2-1の沖縄戦犠牲者の名前をきざんだモニュメントの名前を答えなさい。



図表2-1 沖縄県公式ホームページより

問4 下線部④について、広島市と長崎市では、1948年から現在まで市が主催する平和祈念式典が毎年開かれています。一方、沖縄でも、以前から式典は開かれていましたが、県が主催するようになったのは1974年でした。何がきっかけで平和祈念式典が県主催で開催されるようになったのか、「1972年」の出来事にふれながら説明しなさい。

問5 下線部⑤に関連して、次の問いに答えなさい。

(1) 広島県と長崎県は、どちらも水産業が盛んです。漁獲量が多い代表的な水産物の組み合わせとして正しいものを、次のア～エから1つ選び、記号で答えなさい。

ア：広島県－カキ 長崎県－アサリ イ：広島県－ホタテ 長崎県－サンマ

ウ：広島県－カキ 長崎県－アジ エ：広島県－マグロ 長崎県－イワシ

(2) 広島市と長崎市は、どちらも路面電車が走っており、大正時代初期の開業以来、現在も多くの市民が利用しています。一方、東京都内では、1960年から70年代に、それまで走っていたほとんどの路面電車が廃止され、地下鉄やバスに置きかわりました。広島市で、路面電車が地下鉄にかわらない理由として最もふさわしいものを、次のア～エから1つ選び、記号で答えなさい。

ア：山が多く、平野が少なく地下を掘るのが大変だから。

イ：川が多く、地下を掘りすすむのが難しいから。

ウ：自動車の利用者が多く、地下鉄をつくっても利用する人が少ないから。

エ：地下鉄は環境に悪いから。

(3) 広島と長崎は、どちらも海に面した港町です。特に長崎は、16世紀に「南蛮貿易」で大きく栄えました。ポルトガルのほかに、日本と南蛮貿易を行ったもう一つの国の名前を答えなさい。

(4) 広島と長崎にある世界遺産に関連するものとして誤っているものを、次のア～エから1つ選び、記号で答えなさい。

ア：原爆ドーム イ：大浦天主堂 ウ：八幡製鉄所 エ：端島炭坑（軍艦島）

問6 下線部⑥に関連して、次の問いに答えなさい。

(1) 昨年7月の参議院議員選挙の結果、石破首相が率いる自由民主党の国会議員数は、衆議院・参議院とも全議員数の半分以上になってしまいました。このような状態を「少数与党」と言います。この状態で起きることとして誤っているものを、次のア～エから1つ選び、記号で答えなさい。

ア：国民の意見を聞くことができない。

イ：新しい法律やその年の予算が決まりにくい。

ウ：野党が不信任案を出すと、首相は辞任するか、衆議院を解散する。

エ：話し合いに時間がかかったり、納得しないまま決めざるをえなくなったりする。

(2) その後石破首相は9月初めに辞任することを発表し、10月21日に日本初の女性首相高市早苗氏による内閣が発足しました。次のA～Dがどのような順番で行われたか、正しいものを、下のア～エから1つ選び、記号で答えなさい。

A 公明党との党首会談で連立解消が決まり、日本維新の会と新たに連立を組むことになった。

B 臨時国会が招集され、衆議院・参議院それぞれで内閣総理大臣指名選挙が行われた。その結果、衆・参両院で内閣総理大臣に指名された。

C 内閣のメンバーとなる各省庁の大臣を発表した。

D 自由民主党は総裁を選ぶための選挙を実施した。その結果、総裁に選出された。

ア：B→D→C→A イ：D→B→A→C ウ：B→D→A→C エ：D→A→B→C

問7 下線部⑦に関連して、次の問いに答えなさい。

(1) 国連は、国際社会の平和と発展をめざして設立されました。国連の中で、特に世界の平和と安全について中心的な役割を果たしている機関の名前を、**漢字7字**で答えなさい。

(2) 昨年9月に開催された国連総会に合わせて、イギリス・フランス・カナダをはじめ、150以上の加盟国が新たに国家として承認した地域があります。この地域の名称を**カタカナ5字**で答えなさい。

(3) 国連の専門機関・総会の補助機関の中で、ユネスコが果たしている役割として正しいものを、次のア～エから1つ選び、記号で答えなさい。

ア：国際貿易のルールを定め、貿易による対立の解決をはかる。

イ：世界中の人々の健康を促進し、病気の予防や公衆衛生の向上をはかる。

ウ：教育、科学および文化を通じて、平和および安全に貢献する。

エ：紛争・迫害・自然災害によって故郷を追われた難民や国内避難民を保護し、支援する。

問8 文中の★にあてはまる語を、**7字**で答えなさい。

問9 下線部⑧について、この事業を担当しているのは厚生労働省です。この省の仕事として**誤っているもの**を、次のア～エから1つ選び、記号で答えなさい。

ア：働く人たちが安全で健康的に働けるような環境を整える。

イ：年金や健康保険制度を整え、高齢者も安心して生活できるようにする。

ウ：インフルエンザや新型コロナウイルス感染症などの感染症対策を行う。

エ：中小企業の経営者たちを支援し、企業の成長をサポートする。

問10 戦争の体験者が高齢化して年々人数が減少する中で、体験者たちの証言の代わりに、広島市長・長崎市長・沖縄県知事の「平和宣言」はどのような役割を果たすと考えられるか、説明しなさい。

(以上)

