

令和8年度入学試験問題

2月1日(午前) 実施

社 会 (30分)

〔注 意〕

1. 試験開始の指示があるまで問題を開いてはいけません。
2. 問題冊子は9ページあります。試験開始後すぐに確かめてください。
3. 問題冊子の表紙および解答用紙には、受験番号（算用数字）と氏名をはっきり書いてください。
4. デジタル採点をします。解答は解答欄^{らん}からはみ出さないように、濃^こくははっきりと記入してください。
5. 試験終了後、解答用紙のみ集めます。問題冊子は持ち帰ってください。
6. 試験中、机の上から物を落としたり、気分が悪くなったり、何か用ができたりした時は、手を挙げて監督^{かんとく}の先生に知らせてください。
7. 「漢字で答えなさい」という設問については、解答を漢字で書いてください。

受験番号

氏名

東京女学館中学校

【1】 次の文章を読んで、問いに答えなさい。

昨年かぎやの大きな出来事といえば、「日本国際博覧会（大阪・関西万博）」の開催かいさいでした。「いのち輝く未来社会のデザイン」をテーマとし、会場に建てられた世界中の国々のパビリオン（展示館）で、医療いりょう・環境・エネルギー・食料など、人類の未来に関わる課題について最新の技術や考え方が紹介しょうかいされました。来場者にとっては展示を見たり体験したりしながら、単にめずらしいものを見学するだけでなく、「これからの社会はどうあるべきか」を考える場となりました。

日本で最初に開かれた万博は、1970年の「①大阪万博」でした。戦後の日本が急速に成長し、自信を取り戻しつつあった時期で、テーマは「人類の進歩と調和」でした。岡本太郎の「太陽の塔とう」がシンボルとなり、「動く歩道」などの未来的な技術が多くの人をおどろかせました。77か国が参加し、計6,400万人が訪れるという大規模なイベントになりました。その後、2005年には②愛知県で「愛・地球博」が開かれ、「自然えいちの叡智（大自然が持つ優れたしくみのこと）」をテーマに③地球環境と人類の共生が強調されました。森の中に工夫してつくられた会場は、環境はいりょに配慮した新しい万博の姿を示しました。万博は、その時代の社会に応じてテーマを変えてきましたが、未来の技術や社会のあり方を世界と共有する場であることは変わりませんでした。

そもそも万博はどのように始まったのでしょうか。最初の万博は1851年、イギリスの首都ロンドンで開かれました。当時のイギリスは世界をリードしており、自国の技術や製品を世界に示すためにこの博覧会を開催しました。巨大なガラスの建物「クリスタル・パレス」には各国から機械や工芸品が集まり、多くの人々が訪れました。万博は、産業や文化の成果を世界にアピールする舞台ぶたいとして始まったのです。

その後フランスのパリでも盛んに万博が開かれました。1867年のパリ万博には日本からも人々が参加し、その中には若き もいました。彼は、④江戸幕府最後の将軍 が派遣はけんしたグループの中選ばれ、これが初めての海外経験となりました。本校そうせつしゃの創設者の一人でもある は、のちに「日本資本主義の父」と呼ばれ、現在の1万円札にも描かれています。⑤この時代に外国の技術を見る機会がほとんどなかった日本人にとって、近代的な機械や制度に直接しげきふれたことは大きな刺激になりました。 のフランスでの経験は、⑥日本の近代化を進める上で重要なものになったと伝えられています。

1867年のパリ万博の開催者は、メイン会場に面白い工夫をこらしています。万国博覧会の「万有」と「万国」という2つの要素が調和して交わるようにする必要があると考え、“理想の会場”として建物を楕円形だえんにしました。⑦会場では、同心円状の通路に沿ったエリアに、同じ系列の製品、たとえば食品や衣服などを配置し、放射状に区切ったエリアには1つの国や地域を配置します。こうすることで来場者は、会場を同心円状に回れば ことができるし、反対に、放射状に歩けば、 ことができるのです。

このように19世紀に始まった万博は、国の力を示しさらなる発展を目指すもので、日本にとってはこれが近代化への窓口となりました。20世紀以降は人類全体の未来や課題を考える場へと発展しています。万博には、時代ごとの歴史や人々の思いがこめられているのです。

問1 空らん と にあてはまる人物の姓名をそれぞれ漢字で答えなさい。

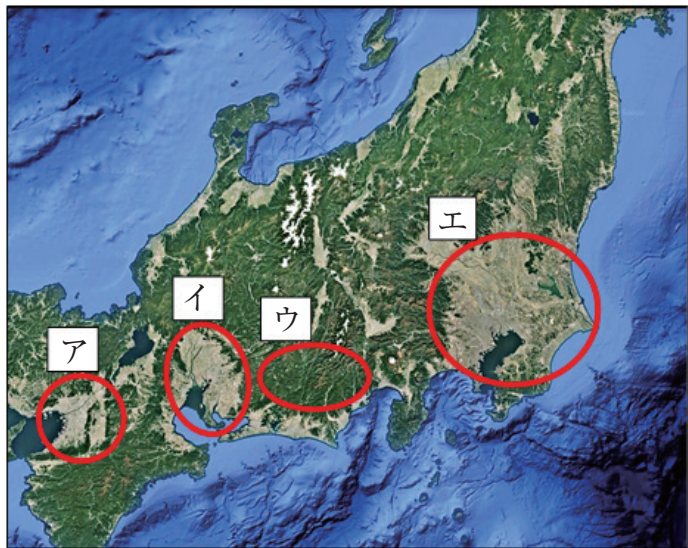
問2 下線部①について、大阪の地理や歴史を説明した次の文章を読み、空らん ～ にあてはまる語句を、うしろのア～エからそれぞれ選び、記号で答えなさい。

大阪は、日本の 地方に位置する大都市です。古くから交通の要所として栄え、琵琶湖から大阪湾に流れこむ の河口には、水運を利用した商業が発達しました。江戸時代に「」と呼ばれ、全国各地から米や特産品が集まる商業の中心地となりました。近代以降は、大阪湾沿岸に工場が集まり、 工業地帯の中心として日本の経済を支えたのです。現在も、経済・文化の中心地として発展を続けています。

- | | | | | |
|--------------------------------|------------|---------|-----------|--------|
| <input type="text" value="1"/> | ア：九州 | イ：中国 | ウ：近畿 | エ：中部 |
| <input type="text" value="2"/> | ア：淀川 | イ：紀ノ川 | ウ：木曾川 | エ：最上川 |
| <input type="text" value="3"/> | ア：将軍のおひざもと | イ：天下の台所 | ウ：天下の米どころ | エ：遠の朝廷 |
| <input type="text" value="4"/> | ア：阪急 | イ：阪神 | ウ：京葉 | エ：京浜 |

問3 下線部②について、次の問いに答えなさい。

- (1) 愛知県の県庁所在地を漢字で答えなさい。
- (2) 愛知県には、稲作や野菜の近郊農業などが行われる「濃尾平野」があります。図表1-1のア～エのうち、この平野の場所はどれか、記号で答えなさい。



Google マップより作成

図表1-1

問4 下線部③に関連して、次の問いに答えなさい。

(1) 1950年代から60年代にかけて、日本で起きた大きな公害問題として誤っているものを次のア～エから1つ選び、記号で答えなさい。

ア：イタイイタイ病 イ：水俣病

ウ：四日市ぜんそく エ：足尾銅山鉍毒事件

(2) SDGsについて説明した次の文について、空らん《 A 》には都市名を、空らん《 B 》には漢字4字の語句を入れなさい。

2015年、アメリカの《 A 》に本部を置く、世界平和のための国際機関《 B 》で「持続可能な開発サミット」が開かれました。ここで、2030年までの世界の目標SDGsつまり「持続可能な開発目標」が示されました。

問5 下線部④について、江戸時代に起きた出来事として、次のア～エを古い方から順番に正しく並びかえ、記号で答えなさい。

ア：第8代将軍徳川吉宗によって、目安箱が設置された。

イ：関ヶ原の戦いで徳川家康が石田三成を破り、勝利した。

ウ：キリスト教の布教や信仰が日本全国で禁止された。

エ：日本とアメリカが日米修好通商条約を結んだ。

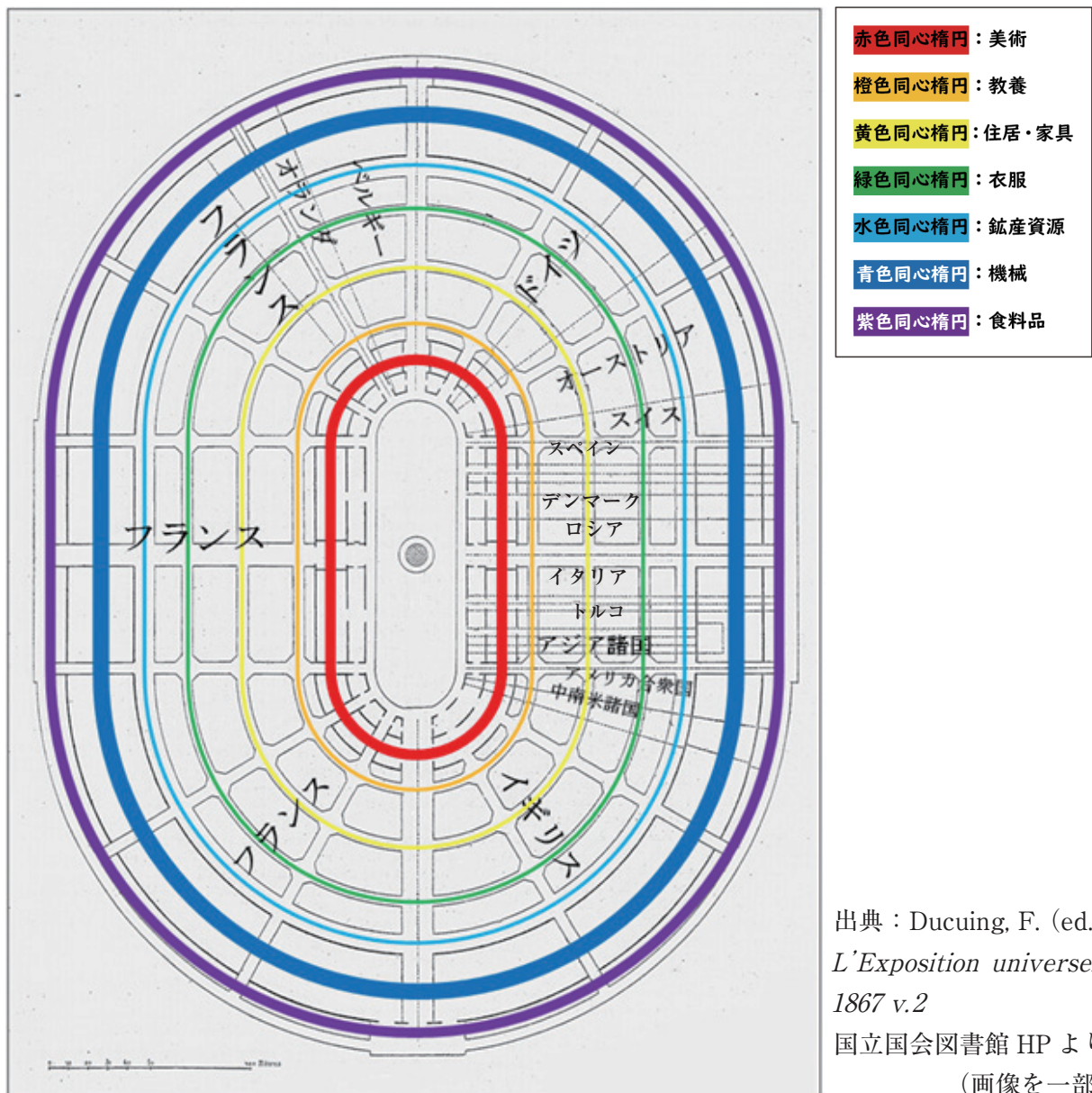
問6 下線部⑤について、江戸時代、幕府が外国との交易を厳しく制限した政策を何と呼ぶか、漢字2字で答えなさい。

問7 下線部⑥について、次の問いに答えなさい。

(1) 国の収入を安定させるために、土地の価格の3%を現金で納めさせることにした政策のことを何と呼ぶか、漢字4字で答えなさい。

(2) 日本の近代化が進む中で「自由民権運動」が各地に広がりました。中心になった人物を1人あげながら、その人物は何を求めたのか、説明しなさい。

問 8 下線部⑦について、図表1 - 2は当時描かれたパリ万博会場の図面です。この図表を参考にしながら、文章中の ▲ と ★ に入る文を考え、それぞれ一行以内で書きなさい。



図表1 - 2 パリ万博会場の図面

問 9 問題の文章全体で書かれていることとして、正しいものを次のア～エから1つ選び、記号で答えなさい。

- ア：第二次世界大戦が終わるまで、日本では万国博覧会が開催されておらず、現在にいたるまで大阪と愛知で1回ずつ開催されたのみである。
- イ：万国博覧会が初めて開催されたのはフランスのパリで、「クリスタル・パレス」などの巨大な建築物が話題を呼んだ。
- ウ：19世紀に万国博覧会が開催されるようになった背景には、自国の技術や製品を世界にアピールすることで国を強くしていこうとする意図があった。
- エ：20世紀の万国博覧会は、過去のすぐれた技術を展示し、先人たちの知恵^{ちえ}を改めて知る場となった。

【2】 次の文章を読んで、問いに答えなさい。

日本は、中国・アメリカ・ドイツ・オランダに次ぐ貿易額世界第4位の貿易国として、①さまざまな国との貿易をおこなっています。

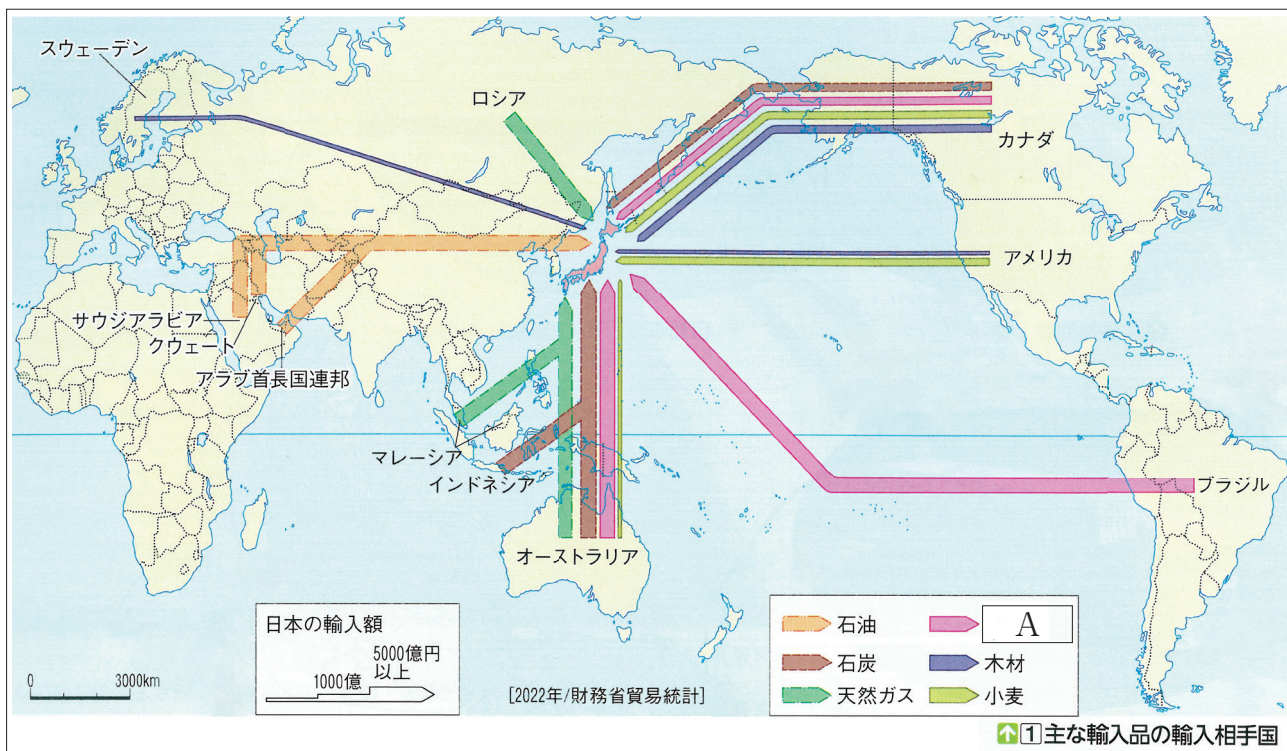
日本の歴史をたどると、②古代から現在まで多くの国と貿易をおこなってきたことがわかります。例えば、平安時代末期には、による日宋貿易が活発に行われ、中国からは陶磁器や絹などが、逆に日本からは硫黄や刀剣などが輸出されました。また、室町時代には第3代将軍③足利義満が中国のと国交を開き、貿易をはじめました。江戸時代でも、オランダや中国との限られた貿易が続けられ、長崎のがその中心地として栄えました。④江戸時代の末期には、アメリカを中心とする欧米諸国が日本と条約をむすび、新たな開港地が増え、さらなる貿易が始まりました。これらの貿易を通じて日本には新しい文化や技術が入り、国の発展につながりました。現代の日本は、とくに⑤自動車や機械類の輸出がさかんで、高い技術力をもつ日本製品は、世界のさまざまな国や地域で親しまれています。

しかし、2025年1月にアメリカ大統領に就任したドナルド・トランプ氏は「アメリカ・ファースト」を掲げ、⑥アメリカの国民と国内産業を守るために、外国との貿易では高い関税をかけることを発表しました。関税とは、海外から輸入される製品にかかる税金のことです。日本も例外ではなく、自動車や機械、電子機器などの主要輸出品に高関税がかかることが決まり、その税率の高さは、1930年以來の水準となっていました（2025年4月時点）。

このように、外国からの品物に高い関税をかけたり、ルールを定めたりして貿易し、自国の産業を守ることを「保護貿易」や「保護主義」といいます。このような保護主義の動きは、アメリカのみならず、中国やインド、フランスなどの主要国でも見られ、OECD（経済協力開発機構）は、保護主義が「世界経済の回復を抑制し、インフレを加速させ、投資にブレーキをかける」と警告しました。実は、かつて1929年に始まる世界恐慌がもたらした不安によって、1930年代にも保護主義が世界の流れとなったことがありました。このとき、アメリカやイギリスなどが、自国との関係が深い国とのみ貿易をおこなった結果、そこからしめだされた⑦ドイツや日本は戦争への道を歩むこととなったのです。つまり、いまの世界の保護主義の流れは、戦前の状況と重なる部分があり、国際社会の安定に悪影響をおよぼす可能性があるといえるでしょう。

問1 空らん～にあてはまる語句を、漢字で答えなさい。ただし、には人物の姓名を入れなさい。

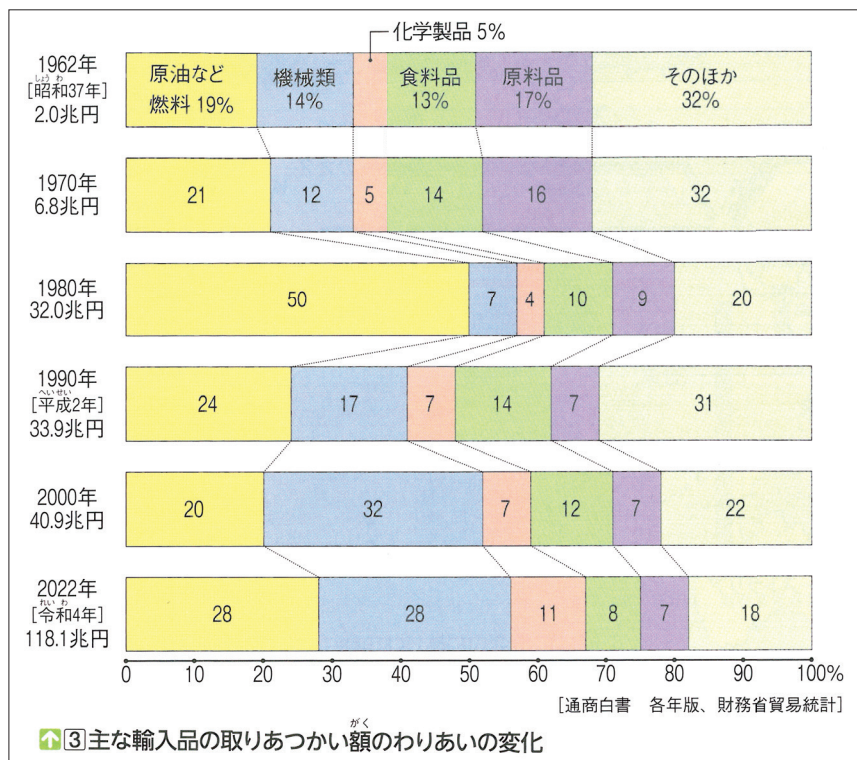
問2 下線部①について、次の図表2-1の A が示す輸入品目を答えなさい。



図表2-1

出典：東京書籍『新編新しい社会5下』令和7年より

問3 下線部②について、図表2-2の帯グラフは、日本の主な輸入品の取りあつかい額の割合の変化を示しています。1980年に原油の輸入額が増えていますが、その原因となった1973年と1979年に起こったできごとを答えなさい。



図表2-2

出典：東京書籍『新編新しい社会5下』令和7年より

問4 下線部③について、足利義満は、文化や芸術を積極的に保護したことで知られます。次の写真のうち、義満に最も関わりが深いものはどれか、ア～エから1つ選び、記号で答えなさい。



ア



イ

著作権の都合上、掲載できません。

平等院鳳凰堂

ウ

著作権の都合上、掲載できません。

中尊寺金色堂

エ

出典：各寺院の公式ホームページより転載

問5 下線部④について、次の問いに答えなさい。

(1) これらの条約には、日本にとって不利な条件が含まれていました。その一つが「関税自主権がなかったこと」です。「関税自主権がない」とは、どのような状態を指しますか。次のア～エから正しいものを1つ選び、記号で答えなさい。

ア：日本が外国との貿易を自由にやめられない状態

イ：日本が外国人を日本の法律で裁けない状態

ウ：日本が輸入品にかかる税率を自由に決められない状態

エ：日本が外国人に税金をはらわせることができる状態

(2) このときの貿易では、当時の日本の貨幣（お金）の材料だった金^{きん}が、多量に外国へ流出しました。その結果、日本ではどのようなことが起こったのでしょうか。次のア～エから正しいものを1つ選び、記号で答えなさい。

ア：物の値段が下がった

イ：物の値段が上がった

ウ：幕府がお米をたくさん放出した

エ：幕府が貨幣（お金）の質を上げた

問6 下線部⑤について、次の問いに答えなさい。

(1) 日本で自動車の生産がさかんな工業地帯はどこか、**漢字**で答えなさい。

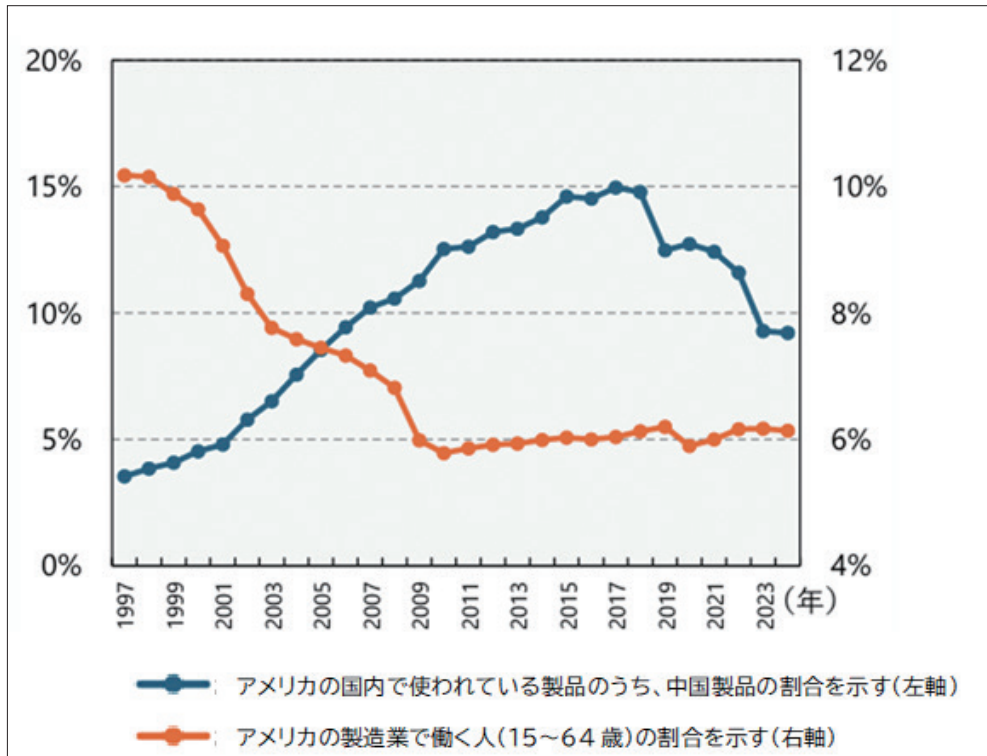
(2) (1) の位置を、次の図表2-3のア～エから1つ選び、記号で答えなさい。



図表2-3

問7 下線部⑥について、なぜ高い関税をかけると国内の産業が守られるのか、説明しなさい。

問8 現在の「保護主義」がアメリカで出てきた背景について、図表2-4から読み取り、説明しなさい。



図表2-4 アメリカでの中国の輸入浸透度と製造業雇用

出典：経済産業省「通商白書2025」より（一部改変）

注1) アメリカでの中国の輸入浸透度とは、具体的には、アメリカが輸入する消費財（例えば衣料品、電子機器など）の中で中国からの輸入品が占める割合のこと。つまり、アメリカ人が消費するモノのうち、どのくらいが中国製品かを示す。

注2) 雇用とは、働いてもらうために人を雇うこと。

問9 下線部⑦について、次のできごとを古いほうから順番に正しく並べ替え、記号を書きなさい。

ア：日本が国際連盟を脱退した。

イ：満州国が建国された。

ウ：満州にいた日本軍が、中国軍を攻撃し、満州事変が起こった。

エ：日本が南京を占領して、南京事件が起こった。

(以上)

